

Число 2 может быть составлено по-разному.



2 яблока и 0 груш




1 яблоко и 1 груша



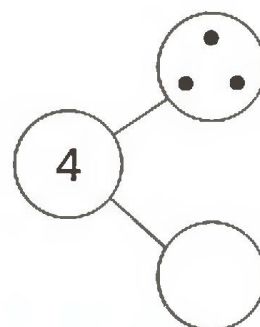
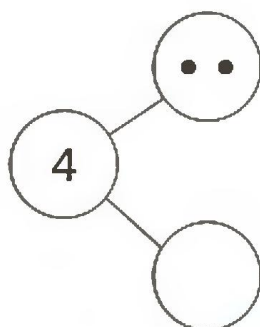
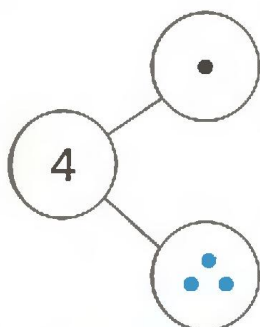
0 яблок и 2 груши



Посмотри на картинки. Скажи, как составлено число 3. Впиши нужные цифры.



Рассмотри схемы. Нарисуй в нижних кружочках столько точек, чтобы вместе с теми, что в верхних кружочках, их стало 4.



Помоги девочке по-разному разложить 5 ягод по двум тарелкам. Дорисуй в пустых тарелках справа недостающие ягоды.



Дорисуй в таблице справа столько кружков и квадратов, сколько указано в таблице слева.

6	0
5	1
4	2
3	3
2	4
1	5
0	6



7	0
---	---



6	1
---	---



--	--



--	--



--	--



--	--

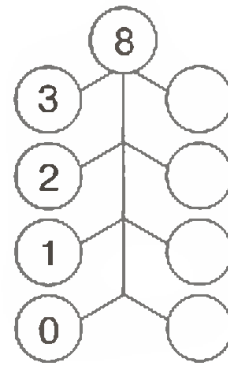
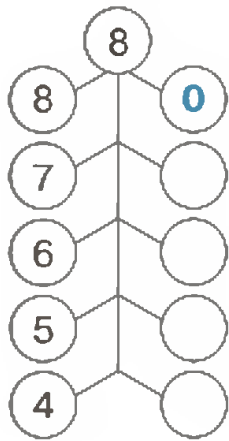


--	--




--	--

Составь по-разному число 8. Впиши нужные цифры в пустые кружочки.



Составь по-разному число 9. Дорисуй нужное количество точек в пустых окошках.



Как составить число 10?

Впиши нужные цифры в пустые клеточки.

