



Раздел РЭМП

(развитие элементарных математических представлений)

РЕШЕНИЕ ЗАДАЧ

Ребенок старшего дошкольного возраста должен уметь составлять и решать математические задачи на сложение и вычитание в пределах 10, а также записывать их решение. К моменту поступления в школу ребенок должен уметь решать не только задачи, сопровождаемые иллюстрациями, но и воспринимать задачи на слух.

*** Предметами здесь и далее будем называть вещи, растения, животных и людей.**

Реши задачу.

На дереве сидело 8 птичек. 4 улетело. Сколько птичек осталось на дереве?



Реши задачи.

Саша нарисовал 4 картинки, а Антон - 2.

Сколько всего картинок нарисовали мальчики?



На дереве росло 8 слив. 5 слив упало. Сколько слив осталось на дереве?



Реши задачи. Запиши решения.

В гараже стояло 4 машины. 1 машина уехала. Сколько машин осталось в гараже?

--	--	--	--	--




В букете 5 ромашек, а колокольчиков на 2 больше. Сколько колокольчиков в букете?

--	--	--	--	--



Реши задачи.

Было 8 ягод. 5 ягод съели. Нарисуй в пустой рамке, сколько ягод осталось.



Было 5 бабочек. Несколько бабочек улетело. Осталось 3 бабочки. Нарисуй в пустой рамке, сколько бабочек улетело.



Было несколько рыбок. 4 рыбки приплыли. Стало 10 рыбок. Нарисуй в пустой рамке, сколько рыбок было вначале.



Реши задачи. Запиши решения.


На столе было 5 яблок. Положили ещё 5 яблок.
Сколько всего яблок стало на столе?

--	--	--	--	--



На грядке было 7 морковок. Выросло ещё 3 морковки.
Сколько морковок стало на грядке?

--	--	--	--	--



Реши задачи. Запиши решения.

Дети слепили 4 снеговика. 2 из них растаяли. Сколько снеговиков осталось?

--	--	--	--	--



В магазине на полке было 8 зонтиков. 3 из них купили. Сколько зонтиков осталось?

--	--	--	--	--




На столе лежало 9 пирожных. 2 из них съели. Сколько пирожных осталось?

--	--	--	--	--



Придумай по картинкам задачи. Запиши их решение.



	+		=	
--	---	--	---	--



	-		=	
--	---	--	---	--



	-		=	
--	---	--	---	--

Придумай по картинкам задачи. Запиши их решение.



	+		=	
--	---	--	---	--



	-		=	
--	---	--	---	--



	-		=	
--	---	--	---	--

Подумай и реши логические задачи.

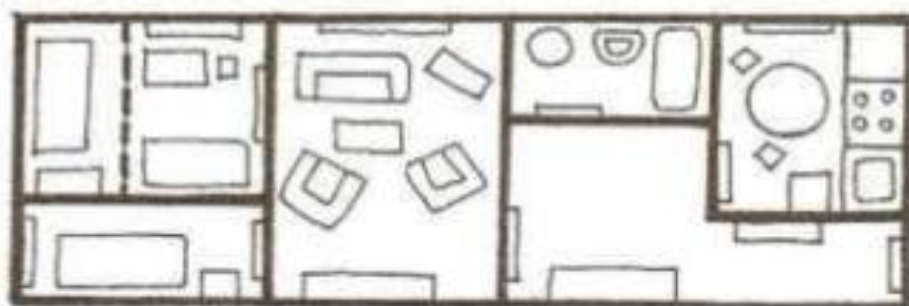
Дорога из школы занимает у Алёши 10 минут. Сколько времени он потратит, если пойдёт вдвоём с другом?



2 рыбака ловили рыбу 3 часа. Сколько часов рыбачил каждый из них?



В квартире было 3 комнаты. Из одной комнаты сделали 2. Сколько комнат стало в квартире?



Подумай и реши логические задачи.

У Ромы было 4 доски. Одну из них он распилил пополам. Сколько теперь досок у Ромы?



Таня и Оля делали уроки 2 часа. Сколько времени на выполнение домашнего задания потратила каждая из девочек?



У мамы было 6 помидоров и 6 огурцов. Для приготовления салата понадобились все помидоры и столько же огурцов. Какие овощи остались у мамы?



Материал подготовила : учитель-дефектолог Иванова Н.А.

/ по книге Вся дошкольная программа/