

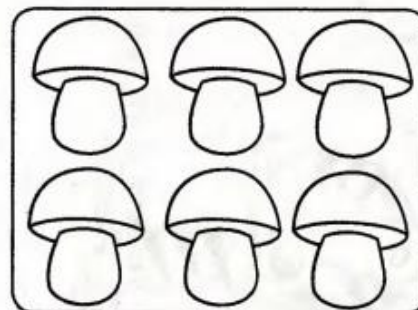

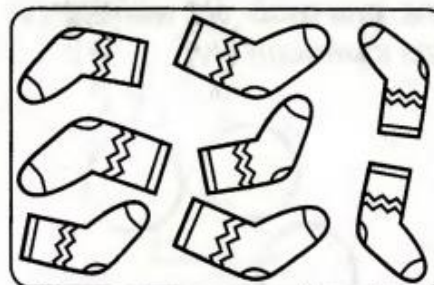
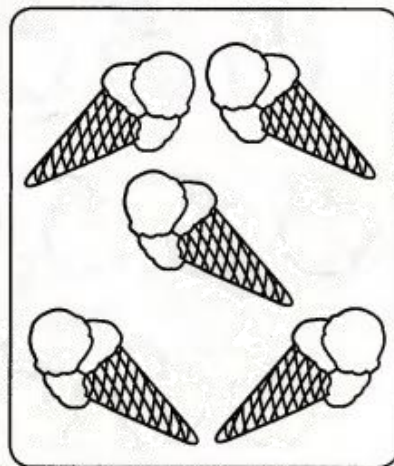







• Пересчитай предметы в каждой группе, соедини группы с соответствующими числами.

1 **2** **3** **4** **5**





6 **7** **8** **9** **10**

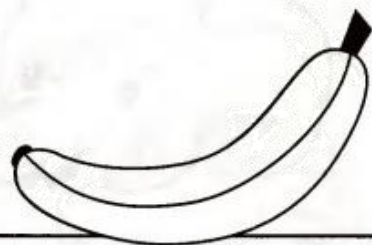


- Помоги числам построиться сначала от меньшего к большему, потом от большего к меньшему.




- Запиши в пустых клеточках «соседей» каждого числа.





- На каждой полке лежит по одному фрукту. Дорисуй необходимое количество фруктов, чтобы на каждой полке их лежало по два.



- Рассмотрите картинки и расскажите, как разными способами можно составить число 3.



1	+		=	3
---	---	--	---	---

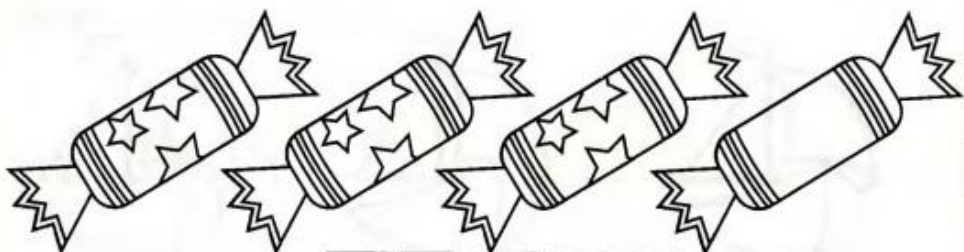


2	+		=	
---	---	--	---	--




	+	0	=	
--	---	---	---	--


- *Рассмотри картинки и расскажи, как разными способами составить число 4.*



$$3 + \square = \square$$

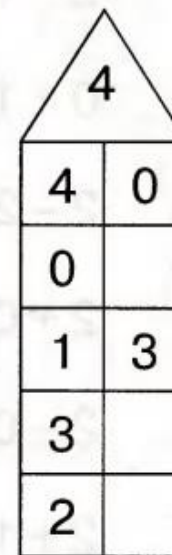
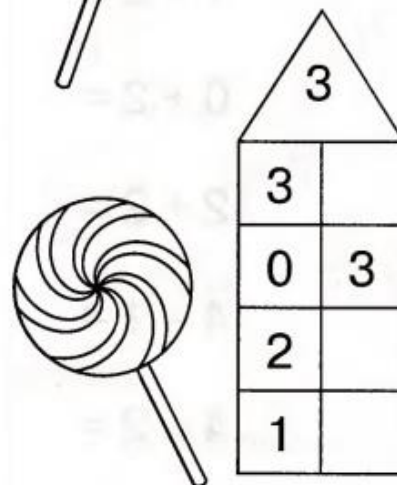
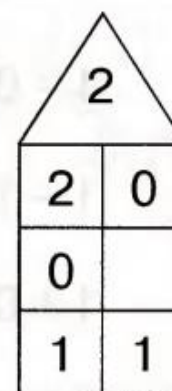
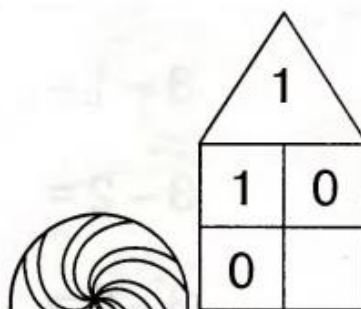


$$2 + \square = \square$$



$$1 + \square = \square$$

- *Рассмотри числовые домики. Впиши в окошки подходящие числа.*



• Реши примеры на сложение и вычитание.



$1 + 1 =$

$3 + 0 =$

$1 - 0 =$

$3 - 1 =$

$1 - 1 =$

$3 - 2 =$



$1 + 0 =$

$3 - 0 =$

$2 - 1 =$

$1 + 2 =$

$0 + 1 =$

$0 + 2 =$



$2 - 2 =$

$2 + 2 =$

$2 + 0 =$

$4 - 1 =$

$2 - 0 =$

$4 - 2 =$

$2 + 1 =$






$3 + 1 =$



$0 + 2 =$

$0 + 3 =$

• Посчитай козлят и поросят на ферме. Запиши результаты в квадратиках.



Козлята

+

=

с колокольчиком

без колокольчика

Поросята

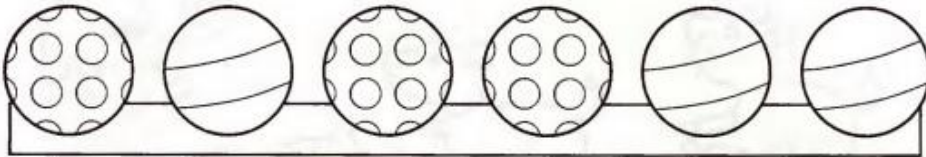

+

=

с пятнышками

без пятнышек

• Посчитай игрушки в магазине. Запиши результаты в квадратиках.




Куклы + =
с бантиком в шляпке

Мячи + =
полосатые в горошек

Мишки + =
большие маленькие

• Посчитай морских обитателей. Запиши результаты в квадратиках.




Морские звёзды + =
маленькие большие

Рыбки + =
пятнистые полосатые

Медузы + =
весёлые грустные



• Посчитай котят. Запиши результаты в квадратах.



Котята

$$\square + \square = \square$$

спящие неспящие

$$\square + \square = \square$$

с пятнами без пятен


$$\square + \square = \square$$

с бантиком без бантика

$$\square + \square = \square$$

с клубком без клубка

• Посчитай детей. Запиши результаты в квадратах.



Дети

$$\square + \square = \square$$

в очках без очков

$$\square + \square = \square$$

с шариком без шарика







$$\square + \square = \square$$

с бантиком без бантика

$$\square + \square = \square$$

девочки мальчики

- Соедини прямоугольники в пары так, чтобы общее количество точек в них составляло число 10.



- Пересчитай предметы в каждой группе. Соедини предметы с соответствующими числами.

1



2

3

4

5


6

7


8

9


10



- Раскрась красным карандашом кабинки, сумма чисел на которых равна пяти. Остальные картинки раскрась, как захочешь.




Соедини точки по порядку. Раскрась картинку.



- | | | |
|----------------|----------------|-------------|
| 1 — зелёный | 4 — синий | 7 — голубой |
| 2 — жёлтый | 5 — фиолетовый | 8 — розовый |
| 3 — коричневый | 6 — оранжевый | 9 — красный |
| | | 10 — чёрный |

Раскрась картинку в соответствующие цвета.



Найди 10 отличий. Раскрась картинку.



На этой картинке спрятались числа от 1 до 10. Найди и раскрась их.



Найди на картинке 10 цыплят. Раскрась картинку.

